


# Troll - Gleichungen



Bilder: KeepinitKawaiiDesign

www.mathemonsterchen.de

① Setze passende Zahlen ein.

$$\begin{array}{r}
 \text{Flower} \cdot \text{Goat} = 72 \\
 \text{Goat} \cdot \text{Troll} = 78 \\
 \text{Troll} + \text{Troll} + \text{Troll} = 39
 \end{array}$$

www.mathemonsterchen.de

② Setze passende Zahlen ein.

$$\begin{array}{r}
 \text{Troll} \cdot \text{Stein} = 95 \\
 \text{Flower} \cdot \text{Flower} \cdot \text{Flower} = 8 \\
 \text{Flower} \cdot \text{Troll} = 38
 \end{array}$$

www.mathemonsterchen.de

③ Setze passende Zahlen ein.

$$\begin{array}{r}
 \text{Troll} + \text{Troll} + \text{Troll} = 21 \\
 \text{Troll} \cdot \text{Goat} = 91 \\
 \text{Flower} \cdot \text{Goat} = 65
 \end{array}$$

www.mathemonsterchen.de

④ Setze passende Zahlen ein.

$$\begin{array}{r}
 \text{Flower} \cdot \text{Troll} = 76 \\
 \text{Troll} \cdot \text{Flower} = 64 \\
 \text{Troll} + \text{Troll} + \text{Troll} = 57
 \end{array}$$

www.mathemonsterchen.de

⑤ Setze passende Zahlen ein.

$$\begin{array}{r}
 \text{Goat} \cdot \text{Goat} = 64 \\
 \text{Flower} \cdot \text{Troll} + \text{Goat} = 30 \\
 \text{Troll} \cdot \text{Goat} = 88
 \end{array}$$

www.mathemonsterchen.de

⑥ Setze passende Zahlen ein.

$$\begin{array}{r}
 \text{Troll} + \text{Troll} + \text{Troll} = 36 \\
 \text{Flower} \cdot \text{Troll} = 98 \\
 \text{Troll} \cdot \text{Flower} = 84
 \end{array}$$

www.mathemonsterchen.de

⑦ Setze passende Zahlen ein.

$$\begin{array}{r}
 \text{Troll} - \text{Flower} + \text{Goat} = 21 \\
 \text{Goat} \cdot \text{Flower} = 108 \\
 \text{Flower} + \text{Flower} + \text{Flower} = 27
 \end{array}$$

www.mathemonsterchen.de

8 Setze passende Zahlen ein.

$$\begin{aligned} \text{Blume} \cdot \text{Frosch} - \text{Ziege} &= 65 \\ \text{Ziege} \cdot \text{Frosch} &= 51 \\ \text{Ziege} \cdot \text{Ziege} \cdot \text{Ziege} &= 27 \end{aligned}$$

www.mathemonsterchen.de

9 Setze passende Zahlen ein.

$$\begin{aligned} \text{Frosch} + \text{Feuer} \cdot \text{Elefant} &= 126 \\ \text{Elefant} + \text{Elefant} + \text{Elefant} &= 54 \\ \text{Topf} \cdot \text{Elefant} - \text{Feuer} &= 83 \end{aligned}$$

www.mathemonsterchen.de

10 Setze passende Zahlen ein.

$$\begin{aligned} \text{Blume} + \text{Blume} + \text{Blume} &= 48 \\ \text{Blume} - \text{Ziege} &= 4 \\ \text{Ziege} \cdot \text{Frosch} + \text{Blume} &= 52 \end{aligned}$$

www.mathemonsterchen.de

11 Setze passende Zahlen ein.

$$\begin{aligned} \text{Frosch} \cdot \text{Blume} \cdot \text{Frosch} &= 56 \\ \text{Frosch} - \text{Frosch} \cdot \text{Blume} &= 2 \\ \text{Blume} \cdot \text{Blume} \cdot \text{Blume} &= 64 \end{aligned}$$

www.mathemonsterchen.de

12 Setze passende Zahlen ein.

$$\begin{aligned} \text{Frosch} - \text{Ziege} \cdot \text{Ziege} &= 3 \\ \text{Frosch} + \text{Frosch} + \text{Frosch} &= 57 \\ \text{Frosch} + \text{Ziege} + \text{Topf} &= 40 \end{aligned}$$

www.mathemonsterchen.de

13 Setze passende Zahlen ein.

$$\begin{aligned} \text{Blume} \cdot \text{Frosch} &= 54 \\ \text{Frosch} \cdot \text{Blume} + \text{Frosch} &= 70 \\ \text{Frosch} \cdot \text{Frosch} \cdot \text{Frosch} &= 27 \end{aligned}$$

www.mathemonsterchen.de

14 Setze passende Zahlen ein.

$$\begin{aligned} \text{Blume} \cdot \text{Blume} &= 64 \\ \text{Blume} + \text{Frosch} &= 62 \\ \text{Frosch} : \text{Topf} + \text{Blume} &= 14 \end{aligned}$$

www.mathemonsterchen.de

15 Setze passende Zahlen ein.

$$\begin{aligned} \text{Frosch} \cdot \text{Frosch} + \text{Ziege} &= 38 \\ \text{Ziege} + \text{Ziege} + \text{Ziege} &= 39 \\ \text{Topf} \cdot \text{Frosch} + \text{Ziege} &= 43 \end{aligned}$$

www.mathemonsterchen.de

Trage hier deine Lösungen ein:



1     

2     

3     

4     

5     


6     

7     

8     

9     

10     

11     

12     

13     

14     

15     

# Lösungen :

1  12  13  6

2  19  5  2

3  7  13  5

4  4  19  16

5  11  8  2


6  12  7  14

7  18  9  12




8  4  17  3

9  7  18  5

10  16  12  3

11  14  4  3

12  19  4  17

13  3  18  16

14  8  54  9

15  5  13  6