




# Einmaleins - Aufgaben am Hunderterfeld




$$10 \cdot 10 = 100$$




Wie heißt die  
Einmaleinsaufgabe ?




Wie heißt die  
Einmaleinsaufgabe ?




Wie heißt die  
Einmaleinsaufgabe ?




Wie heißt die  
Einmaleinsaufgabe ?




Wie heißt die  
Einmaleinsaufgabe ?



Wie heißt die  
Einmaleinsaufgabe ?



Wie heißt die  
Einmaleinsaufgabe ?



Wie heißt die  
Einmaleinsaufgabe ?



$$2 \cdot 1 = 2$$

$$1 \cdot 1 = 1$$

$$5 \cdot 1 = 5$$


$$4 \cdot 1 = 4$$

$$3 \cdot 1 = 3$$


$$8 \cdot 1 = 8$$

$$7 \cdot 1 = 7$$


$$6 \cdot 1 = 6$$




Wie heißt die Einmaleinsaufgabe?




Wie heißt die Einmaleinsaufgabe?




Wie heißt die Einmaleinsaufgabe?




Wie heißt die Einmaleinsaufgabe?




Wie heißt die Einmaleinsaufgabe?




Wie heißt die Einmaleinsaufgabe?



Wie heißt die Einmaleinsaufgabe?



Wie heißt die Einmaleinsaufgabe?



Wie heißt die Einmaleinsaufgabe?



$1 \cdot 2 = 2$

$10 \cdot 1 = 10$

$9 \cdot 1 = 9$

$4 \cdot 2 = 8$


$3 \cdot 2 = 6$

$2 \cdot 2 = 4$


$7 \cdot 2 = 14$

$6 \cdot 2 = 12$


$5 \cdot 2 = 10$




Wie heißt die Einmaleinsaufgabe ?




Wie heißt die Einmaleinsaufgabe ?




Wie heißt die Einmaleinsaufgabe ?




Wie heißt die Einmaleinsaufgabe ?




Wie heißt die Einmaleinsaufgabe ?




Wie heißt die Einmaleinsaufgabe ?



Wie heißt die Einmaleinsaufgabe ?



Wie heißt die Einmaleinsaufgabe ?



Wie heißt die Einmaleinsaufgabe ?



$$10 \cdot 2 = 20$$

$$9 \cdot 2 = 18$$

$$8 \cdot 2 = 16$$

$$3 \cdot 3 = 9$$


$$2 \cdot 3 = 6$$

$$1 \cdot 3 = 3$$

$$6 \cdot 3 = 18$$


$$5 \cdot 3 = 15$$

$$4 \cdot 3 = 12$$




Wie heißt die Einmaleinsaufgabe ?

www.mathemonsterchen.de




Wie heißt die Einmaleinsaufgabe ?

www.mathemonsterchen.de




Wie heißt die Einmaleinsaufgabe ?

www.mathemonsterchen.de




Wie heißt die Einmaleinsaufgabe ?

www.mathemonsterchen.de




Wie heißt die Einmaleinsaufgabe ?

www.mathemonsterchen.de




Wie heißt die Einmaleinsaufgabe ?

www.mathemonsterchen.de




Wie heißt die Einmaleinsaufgabe ?

www.mathemonsterchen.de



Wie heißt die Einmaleinsaufgabe ?

www.mathemonsterchen.de



Wie heißt die Einmaleinsaufgabe ?

www.mathemonsterchen.de

$$9 \cdot 3 = 27$$

$$8 \cdot 3 = 24$$

$$7 \cdot 3 = 21$$

$$2 \cdot 4 = 8$$

$$1 \cdot 4 = 4$$

$$10 \cdot 3 = 30$$

$$5 \cdot 4 = 20$$

$$4 \cdot 4 = 16$$

$$3 \cdot 4 = 12$$





$$8 \cdot 4 = 32$$

$$7 \cdot 4 = 28$$

$$6 \cdot 4 = 24$$

$$1 \cdot 5 = 5$$

$$10 \cdot 4 = 40$$

$$9 \cdot 4 = 36$$

$$4 \cdot 5 = 20$$

$$3 \cdot 5 = 15$$

$$2 \cdot 5 = 10$$



$$7 \cdot 5 = 35$$

$$6 \cdot 5 = 30$$

$$5 \cdot 5 = 25$$

$$10 \cdot 5 = 50$$

$$9 \cdot 5 = 45$$

$$8 \cdot 5 = 40$$

$$3 \cdot 6 = 18$$

$$2 \cdot 6 = 12$$

$$1 \cdot 6 = 6$$



$$6 \cdot 6 = 36$$

$$5 \cdot 6 = 30$$

$$4 \cdot 6 = 24$$

$$9 \cdot 6 = 54$$

$$8 \cdot 6 = 48$$

$$7 \cdot 6 = 42$$

$$2 \cdot 7 = 14$$

$$1 \cdot 7 = 7$$

$$10 \cdot 6 = 60$$



$$5 \cdot 7 = 35$$

$$4 \cdot 7 = 28$$

$$3 \cdot 7 = 21$$

$$8 \cdot 7 = 56$$

$$7 \cdot 7 = 49$$


$$6 \cdot 7 = 42$$

$$1 \cdot 8 = 8$$

$$10 \cdot 7 = 70$$


$$9 \cdot 7 = 63$$






Wie heißt die Einmaleinsaufgabe ?

[www.mathemonsterchen.de](http://www.mathemonsterchen.de)




Wie heißt die Einmaleinsaufgabe ?

[www.mathemonsterchen.de](http://www.mathemonsterchen.de)




Wie heißt die Einmaleinsaufgabe ?

[www.mathemonsterchen.de](http://www.mathemonsterchen.de)




Wie heißt die Einmaleinsaufgabe ?

[www.mathemonsterchen.de](http://www.mathemonsterchen.de)




Wie heißt die Einmaleinsaufgabe ?

[www.mathemonsterchen.de](http://www.mathemonsterchen.de)




Wie heißt die Einmaleinsaufgabe ?

[www.mathemonsterchen.de](http://www.mathemonsterchen.de)




Wie heißt die Einmaleinsaufgabe ?

[www.mathemonsterchen.de](http://www.mathemonsterchen.de)



Wie heißt die Einmaleinsaufgabe ?

[www.mathemonsterchen.de](http://www.mathemonsterchen.de)



Wie heißt die Einmaleinsaufgabe ?

[www.mathemonsterchen.de](http://www.mathemonsterchen.de)

$$4 \cdot 8 = 32$$

$$3 \cdot 8 = 24$$

$$2 \cdot 8 = 16$$

$$7 \cdot 8 = 56$$

$$6 \cdot 8 = 48$$

$$5 \cdot 8 = 40$$

$$10 \cdot 8 = 80$$

$$9 \cdot 8 = 72$$

$$8 \cdot 8 = 64$$



$$3 \cdot 9 = 27$$

$$2 \cdot 9 = 18$$

$$1 \cdot 9 = 9$$

$$6 \cdot 9 = 54$$

$$5 \cdot 9 = 45$$

$$4 \cdot 9 = 36$$

$$9 \cdot 9 = 81$$

$$8 \cdot 9 = 72$$

$$7 \cdot 9 = 63$$



$2 \cdot 10 = 20$

$1 \cdot 10 = 10$

$10 \cdot 9 = 90$

$5 \cdot 10 = 50$


$4 \cdot 10 = 40$

$3 \cdot 10 = 30$

$8 \cdot 10 = 80$


$7 \cdot 10 = 70$

$6 \cdot 10 = 60$




Wie heißt die  
Einmaleinsaufgabe ?

[www.mathemonsterchen.de](http://www.mathemonsterchen.de)



Wie heißt die  
Einmaleinsaufgabe ?

[www.mathemonsterchen.de](http://www.mathemonsterchen.de)



Wie heißt die  
Einmaleinsaufgabe ?

[www.mathemonsterchen.de](http://www.mathemonsterchen.de)

$$0 \cdot 0 = 0$$

$$10 \cdot 10 = 100$$

$$9 \cdot 10 = 90$$