



①

## Zahlenpyramiden

Kannst du dem Mathemonsterchen helfen ?



28 43  
49 19 30  
15




www.mathemonsterchen.de  
Bild: © sarah5 by fotolia.de


②

## Zahlenpyramiden

Kannst du dem Mathemonsterchen helfen ?



31 26  
57 43 59  
16




www.mathemonsterchen.de  
Bild: © sarah5 by fotolia.de


③

## Zahlenpyramiden

Kannst du dem Mathemonsterchen helfen ?



35 34  
66 32 28  
63




www.mathemonsterchen.de  
Bild: © sarah5 by fotolia.de


④

## Zahlenpyramiden

Kannst du dem Mathemonsterchen helfen ?



35 72  
78 45 43  
27




www.mathemonsterchen.de  
Bild: © sarah5 by fotolia.de


5

### Zahlenpyramiden

Kannst du dem Mathemonsterchen helfen ?



29      27  
 28   52   57  
      25




www.mathemonsterchen.de  
Bild: © sarah5 by fotolia.de


6

### Zahlenpyramiden

Kannst du dem Mathemonsterchen helfen ?



18      21  
 33   4   29  
      39




www.mathemonsterchen.de  
Bild: © sarah5 by fotolia.de


7

### Zahlenpyramiden

Kannst du dem Mathemonsterchen helfen ?



14      27  
 13   11   28  
      17




www.mathemonsterchen.de  
Bild: © sarah5 by fotolia.de


8

### Zahlenpyramiden

Kannst du dem Mathemonsterchen helfen ?



18      38  
 26   56   28  
      54




www.mathemonsterchen.de  
Bild: © sarah5 by fotolia.de


9

## Zahlenpyramiden

Kannst du dem Mathemonsterchen helfen ?



88 57  
31 49 36  
85




www.mathemonsterchen.de  
Bild: © sarah5 by fotolia.de


10

## Zahlenpyramiden

Kannst du dem Mathemonsterchen helfen ?



39 72  
46 76 37  
26




www.mathemonsterchen.de  
Bild: © sarah5 by fotolia.de


11

## Zahlenpyramiden

Kannst du dem Mathemonsterchen helfen ?



13 29  
48 16 32  
42




www.mathemonsterchen.de  
Bild: © sarah5 by fotolia.de


12

## Zahlenpyramiden

Kannst du dem Mathemonsterchen helfen ?



91 27  
39 57 96  
64






www.mathemonsterchen.de  
Bild: © sarah5 by fotolia.de

13

### Zahlenpyramiden

Kannst du dem Mathemonsterchen helfen ?






www.mathemonsterchen.de  
Bild: © sarah5 by fotolia.de

14

### Zahlenpyramiden

Kannst du dem Mathemonsterchen helfen ?






www.mathemonsterchen.de  
Bild: © sarah5 by fotolia.de

15

### Zahlenpyramiden

Kannst du dem Mathemonsterchen helfen ?






www.mathemonsterchen.de  
Bild: © sarah5 by fotolia.de

16

### Zahlenpyramiden

Kannst du dem Mathemonsterchen helfen ?



www.mathemonsterchen.de  
Bild: © sarah5 by fotolia.de

# Lösungen:

① Zahlenpyramiden  
Kannst du dem Mathemonsterchen helfen ?



$49 = 30 + 19$        $43 = 28 + 15$

www.mathemonsterchen.de  
Bild: © sarah5 by fotolia.de

⑤ Zahlenpyramiden  
Kannst du dem Mathemonsterchen helfen ?



$52 = 27 + 25$        $57 = 29 + 28$

www.mathemonsterchen.de  
Bild: © sarah5 by fotolia.de

② Zahlenpyramiden  
Kannst du dem Mathemonsterchen helfen ?



$57 = 31 + 26$        $59 = 43 + 16$

www.mathemonsterchen.de  
Bild: © sarah5 by fotolia.de

⑥ Zahlenpyramiden  
Kannst du dem Mathemonsterchen helfen ?



$33 = 29 + 4$        $39 = 21 + 18$

www.mathemonsterchen.de  
Bild: © sarah5 by fotolia.de

③ Zahlenpyramiden  
Kannst du dem Mathemonsterchen helfen ?



$66 = 34 + 32$        $63 = 35 + 28$

www.mathemonsterchen.de  
Bild: © sarah5 by fotolia.de

⑦ Zahlenpyramiden  
Kannst du dem Mathemonsterchen helfen ?



$27 = 13 + 14$        $28 = 11 + 17$

www.mathemonsterchen.de  
Bild: © sarah5 by fotolia.de

④ Zahlenpyramiden  
Kannst du dem Mathemonsterchen helfen ?



$78 = 35 + 43$        $72 = 45 + 27$

www.mathemonsterchen.de  
Bild: © sarah5 by fotolia.de

⑧ Zahlenpyramiden  
Kannst du dem Mathemonsterchen helfen ?



$56 = 38 + 18$        $54 = 28 + 26$

www.mathemonsterchen.de  
Bild: © sarah5 by fotolia.de

⑨ Zahlenpyramiden  
Kannst du dem Mathemonsterchen helfen ?



$88 = 57 + 31$        $85 = 49 + 36$

www.mathemonsterchen.de  
Bild: © sarah5 by fotolia.de

⑬ Zahlenpyramiden  
Kannst du dem Mathemonsterchen helfen ?



$26 = 17 + 9$        $27 = 14 + 13$

www.mathemonsterchen.de  
Bild: © sarah5 by fotolia.de

⑩ Zahlenpyramiden  
Kannst du dem Mathemonsterchen helfen ?



$76 = 39 + 37$        $72 = 46 + 26$

www.mathemonsterchen.de  
Bild: © sarah5 by fotolia.de

⑭ Zahlenpyramiden  
Kannst du dem Mathemonsterchen helfen ?



$58 = 34 + 24$        $53 = 38 + 15$

www.mathemonsterchen.de  
Bild: © sarah5 by fotolia.de

⑪ Zahlenpyramiden  
Kannst du dem Mathemonsterchen helfen ?



$48 = 32 + 16$        $42 = 29 + 13$

www.mathemonsterchen.de  
Bild: © sarah5 by fotolia.de

⑮ Zahlenpyramiden  
Kannst du dem Mathemonsterchen helfen ?



$34 = 16 + 18$        $38 = 21 + 17$

www.mathemonsterchen.de  
Bild: © sarah5 by fotolia.de

⑫ Zahlenpyramiden  
Kannst du dem Mathemonsterchen helfen ?



$91 = 64 + 27$        $96 = 57 + 39$

www.mathemonsterchen.de  
Bild: © sarah5 by fotolia.de

⑯ Zahlenpyramiden  
Kannst du dem Mathemonsterchen helfen ?



$44 = 36 + 8$        $47 = 29 + 18$

www.mathemonsterchen.de  
Bild: © sarah5 by fotolia.de